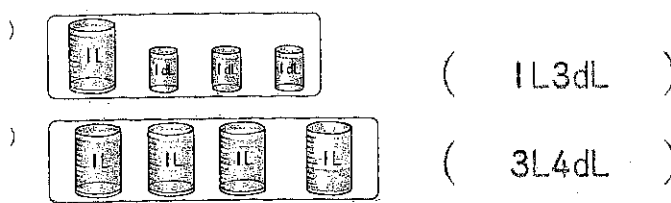


6. 水のかさのたんい

水のかさはどれだけですか。



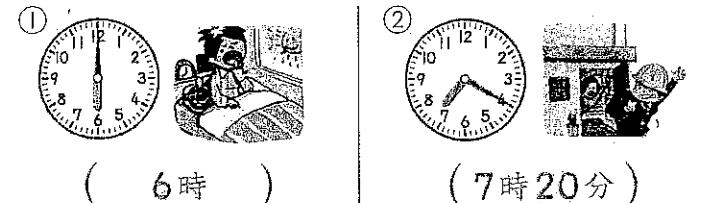
つぎの入れものに入るかさのたんいを□に書きましょう。

① ぎゅうにゆうパック... 1 L
② ペットボトル... 500 mL
□にあう数を書きましょう。

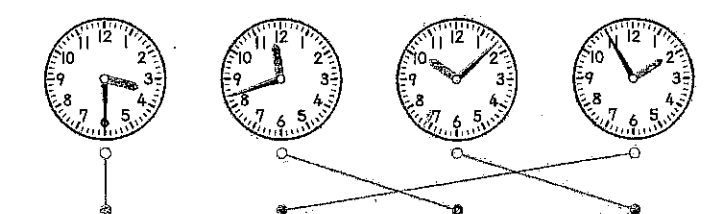
1L = 10 dL
7Lは、1Lの7分のかさです。計算をしましょう。
6L 7dL + 2dL = 6L 9dL
8L 8dL - 4L = 4L 8dL
9L 6dL - 3dL = 9L 3dL

7. 時こくと時間

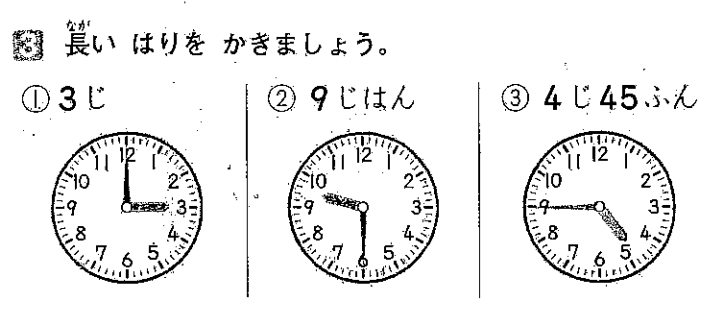
何時ですか。また、何時何分ですか。



あうものを○→でむすびましょう。



長いはりをかきましよう。

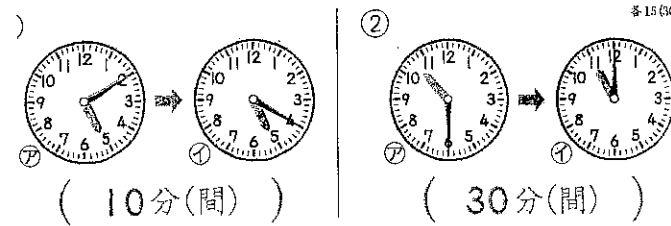


7. 時こくと時間

□にあう数を書きましょう。

1時間は60分です。①日は24時間です。

⑦から①までの時間は何分ですか。

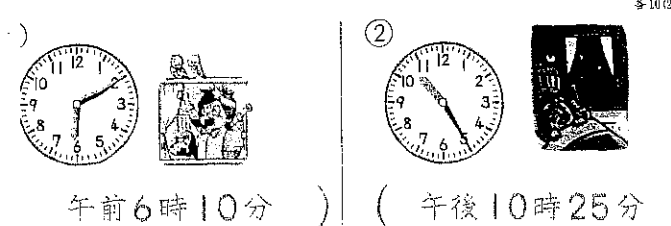


今、7時30分です。つぎの時こくを書きましょう。

1時間前は、(6時30分)です。

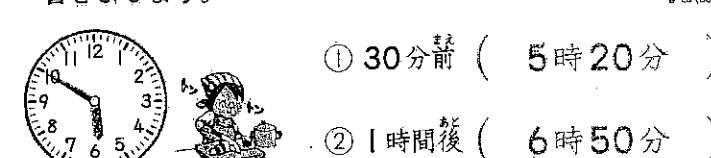
30分後は、(8時)です。

つぎの時こくを午前、午後をつかって書きましよう。



7. 時こくと時間

今の時こくは5時50分です。つぎの時こくを書きましよう。




□にあう数を書きましよう。

① 60分 = 1時間 ② 70分 = 1時間 10分

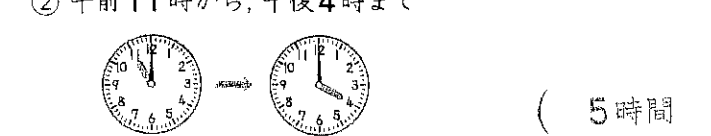
③ 1時間30分 = 90分 ④ 1時間40分 = 100分

つぎの時間を書きましよう。



① 午前8時から、午前10時まで (2時間)

② 午前11時から、午後4時まで



2. たし算(1)
① 62 + 13 = 75
② 40 + 47 = 87
③ 29 + 30 = 59
④ 31 + 8 = 39
⑤ 5 + 70 = 75
⑥ 15 + 42 = 57
⑦ 34 + 30 = 64
⑧ 6 + 82 = 88
⑨ 50 + 8 = 58
⑩ 6 + 60 = 66

4. ひき算(1)
① 57 - 43 = 14
② 96 - 15 = 81
③ 82 - 70 = 12
④ 64 - 62 = 2
⑤ 39 - 9 = 30
⑥ 98 - 36 = 62
⑦ 74 - 24 = 50
⑧ 59 - 50 = 9
⑨ 46 - 3 = 43
⑩ 87 - 7 = 80

9. 水のかさのたんい
① 6dL
② 2L 8dL (28dL)
③ 1L 4dL (14dL)
④ 1L 7dL + 2L = 3L 7dL
⑤ 5L + 3L 9dL = 8L 9dL
⑥ 2L 3dL + 4dL = 2L 7dL
⑦ 6L 2dL - 3L = 3L 2dL
⑧ 8L 4dL - 8L = 4dL
⑨ 3L 8dL - 5dL = 3L 3dL
⑩ 7L 6dL - 6dL = 7L

10. 7. 時こくと時間
① 午前9時, 午後2時40分
② 40分間
③ 3時間
④ 午前10時