

5 だてめ □ 8~24

1. かけ算

名前 P 8~24

年 組 番 点

1 かけ算をしましょう。 各5(20)

- ① $8 \times 0 = 0$ ② $0 \times 5 = 0$
- ③ $10 \times 6 = 60$ ④ $4 \times 10 = 40$

2 □にあてはまる数を書きましょう。 各10(30)

- ① 9×7 の答えは、 9×8 の答えより **9** 小さい。
- ② 8×6 の答えは、 3×6 と **5** $\times 6$ の答えをあわせた数です。
- ③ 4×9 の答えは、 4×5 と $4 \times$ **4**の答えをあわせた数です。

3 □にあてはまる数を書きましょう。 各5(20)

- ① $6 \times 7 = 6 \times 6 +$ **6** ② $8 \times 8 = 8 \times 9 -$ **8**
- ③ $3 \times 2 = 2 \times$ **3** ④ $4 \times$ **9** $= 36$

4 1こ10円のチョコレートを7こ買います。代金はいくらになりますか。 式・答え各15(30)

しき式 $10 \times 7 = 70$

答え (**70円**)







6 じゆんび □ 27~33

2. 時こくと時間のもつめ方

名前 P 27~33

年 組 番 点

1 次の時こくを、午前、午後を使って書きましょう。


①   ②  

(午前 **6時50分**) (午後 **9時5分**)

2 □にあてはまる数を書きましょう。

- ① 1時間 = **60** 分 ② 70分 = **1** 時間 **10** 分
- ③ 1時間30分 = **90** 分 ④ 1日 = **24** 時間

3 時計を見て、次の時こくを書きましょう。

 ① 20分後の時こく (**4時50分**)

② 1時間前の時こく (**3時30分**)

4 午前9時から午後2時までの時間は、何時間ですか。

 →  (**5時間**)

7 たしかめ □ 28~30

2. 時こくと時間のもつめ方

1. 時こくと時間のもつめ方①

名前 P 28~30

年 組 番 点

1 次の時こくや時間をもつめましょう。 各20(40)

① 1時50分から30分後の時こく

 1時50分 2時 時 分  (**2時20分**)

10分 20分

② 7時30分から8時10分までの時間

 7時30分 8時 8時10分  (**40分(間)**)

30分 10分

2 学校を3時50分に出て、20分歩くと駅に着きました。駅に着いた時こくは何時何分ですか。 (20)

(**4時10分**)

3 家を出て30分歩いて、公園に10時20分に着きました。家を出た時こくは何時何分ですか。 (20)

(**9時50分**)

4 たけるさんは、4時30分から5時20分まで野球をしました。野球をしていた時間は、何分ですか。 (20)

(**50分(間)**)



8 たしかめ □ 31~32

2. 時こくと時間のもつめ方

1. 時こくと時間のもつめ方②

2. 短い時間

名前 P 31~32

年 組 番 点

1 ゆうじさんは、公園で50分、家で30分遊びました。遊んだ時間は、あわせて何時間何分ですか。 (10)

0 1時間 時間 分

 (**1時間20分**)

2 1時間40分と30分をあわせた時間は、何時間何分ですか。 (10)

(**2時間10分**)



3 □にあてはまる数を書きましょう。 ※②、④宛答 各10(40)

- ① 1分 = **60** 秒 ② 70秒 = **1** 分 **10** 秒
- ③ 2分 = **120** 秒 ④ 90秒 = **1** 分 **30** 秒

4 時間が長いほうを、○でかこみましょう。 各10(20)

- ① (**62秒** , **1分5秒**) ② (**136秒** , 1分36秒)

5 □にあてはまる、時間のたんいを書きましょう。 各10(20)

-  ① 歯をみがいていた時間 **5** 分
-  ② 登校してから下校するまでの時間 ... **7** 時間