


ちがず 地図のやくそくと使い方 (方位・地図記号・きより)


年 組 番
名 前

●やってみよう


(1) 地図上では、建物や土地の様子がわかりやすくなるように地図記号が使われています。下の「地図記号のもとになったもの」から生まれた「地図記号」を、(例)のように線で結びましょう。


ちがずきごう 地図記号のもとになったもの

(例) **文**  **文**
 例音、教育や文化などに關わる仕事をしていた文部省の「文」を記号にしたもの。

テ  **テ**
 例音、郵便をあつかっていた通信省の「テ」を記号にしたもの。

+  **+**
 例音、衛生隊の印を記号にしたもの。




卍  **卍**
 例神社の入り口などにある鳥居の形。




田  **田**
 例仏教で使われる「田」を記号にしたもの。




X  **X**
 例警察官が持っている警棒を記号にしたもの。




ちがずきごう 地図記号のもとになったもの




  
 建物の形に關係なく、市の中心にあることをイメージしたもの。

  
 りんごやなしなどの菓物を横から見た形。

  
 2枚の字葉の形。

  
 綿をかり取ったあとの切り株の形。

  
 本を開いたときの形。

  
 昔、火事のときに火の広がりを防ぐために使ったさすまたの形。

ちがずきごう 地図記号

 樹

 果樹園 (果物畑)

 市役所

 消防署

 田

 図書館

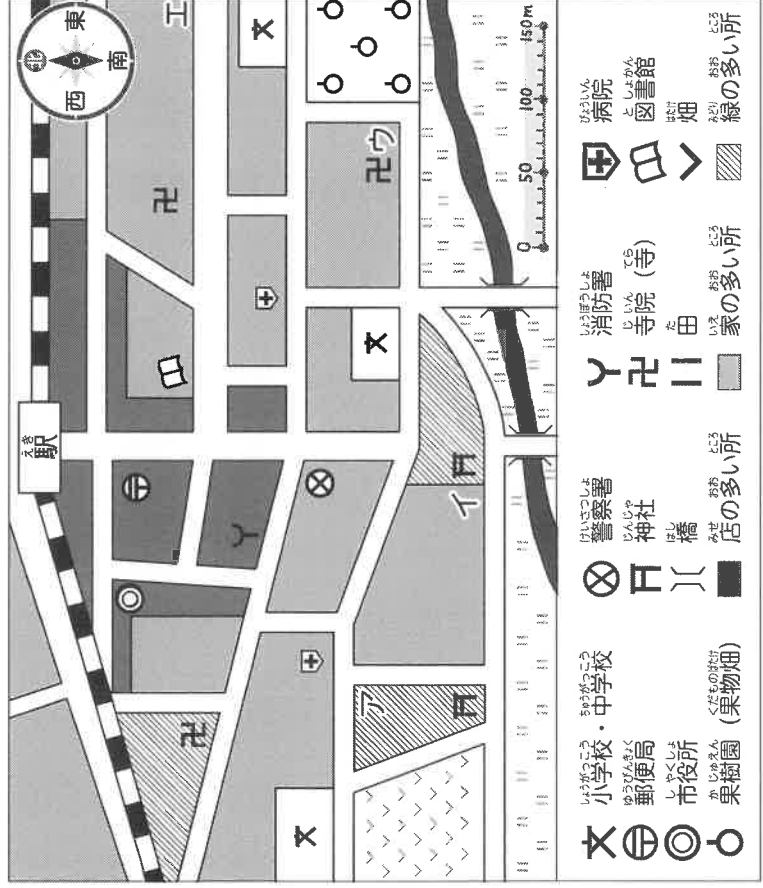
(2) 次の建物が下の地図にいくつあるか、地図記号を数えてみましょう。

- ① 小・中学校 () ② 図書館 () ③ 寺院 (寺) ()
- (3) ①~④の手がかりをたよりに、たからものを探しましょう。たからものは、ア~エのどこかの場所にあります。

☆手がかり

- ① 駅から南に進みます。
 ② 警察署のある交差点を東へ曲がり、家の多い所を100m進みます。
 ③ 病院のある丁字路を南に曲がります。
 ④ 学校のある交差点を東に100m進んだ所に、たからものがあります。

たからものの場所 (記号)



- 文 小・中学校 田 警察署 卍 小学校・中学校 田 郵便局 田 市役所 田 果樹園 (果物畑)
- テ 警察署 田 神社 田 橋 田 家の多い所
- + 消防署 田 寺院 (寺) 田 田 田 家の多い所
- 田 病院 田 図書館 田 畑 田 緑の多い所

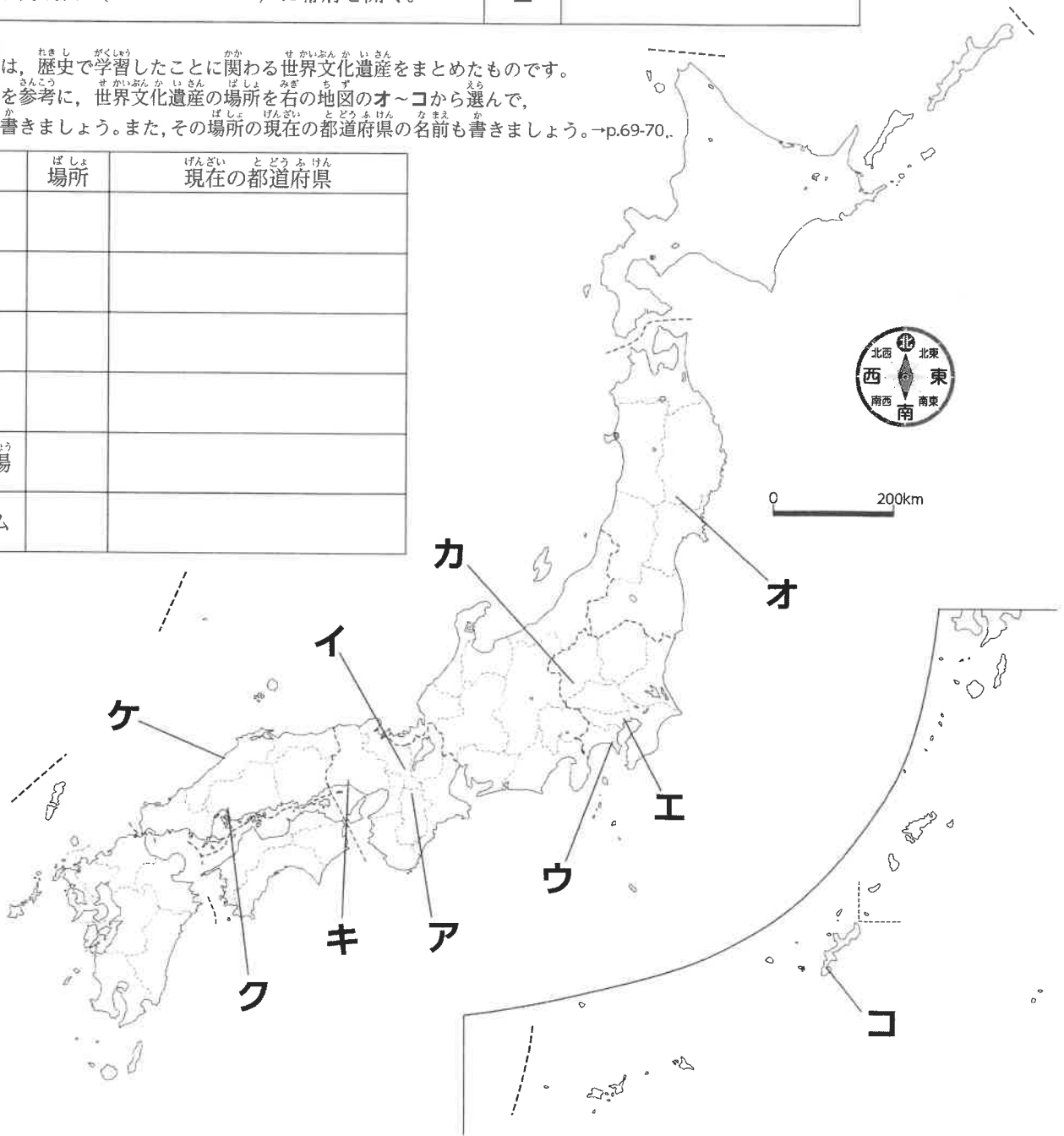
●やってみよう

- (1) 下の年表は、日本の歴史上で政治の中心になった場所について、まとめたものです。
 年表の中のア～エは、地図上のア～エの場所に対応しています。
 下の地図や地図帳を参考にして、年表の()に、あてはまる場所の名前を書きましょう。
 また、その場所の現在の都道府県の名前も書きましょう。→p.69-70

年	できごと	場所	現在の都道府県
710	()に都を移す。	ア	
794	()に都を移す。	イ	
1192	源頼朝が征夷大將軍になる。(幕府)	ウ	
1603	徳川家康が()に幕府を開く。	エ	

- (2) 下の表は、歴史で学習したことに関わる世界文化遺産をまとめたものです。
 地図帳を参考に、世界文化遺産の場所を右の地図のオ～コから選んで、
 記号を書きましょう。また、その場所の現在の都道府県の名前も書きましょう。→p.69-70.

名前	場所	現在の都道府県
平泉		
首里城跡		
姫路城		
石見銀山		
富岡製糸場		
原爆ドーム		



地図のやくそくと使い方 (方位・地図記号・きより)

年 組 番
名 前

解答例

●やってみよう

(1) 地図上では、建物や土地の様子がわかりやすくなるように地図記号が使われています。下の「地図記号のもとになったもの」から生まれた「地図記号」を、(例)のように線で結びましょう。

地図記号のもとになったもの

(例) **文** (小学校・中学校)

音、教育や文化などに關わるしるしを、文部省の「文」を記号にしたもの。

テ (神社) : 音、郵便であつかつていた通信省の「テ」を記号にしたもの。

+ (衛生隊の印) : 音、衛生隊の印を記号にしたもの。

卍 (神社の入り口) : 神社の入り口などにある鳥居の形。

田 (郵便局) : 仏教で使われる「田」を記号にしたもの。

卍 (病院) : 警察官が持つていた繻帶を記号に交差させた形。

卍 (寺院(寺)) : 音、郵便であつかつていた通信省の「テ」を記号にしたもの。

地図記号のもとになったもの

卍 (畑) : 建物の形に關係なく、市の中心にあることをイメージしたもの。

○ (果樹園(果物畑)) : りんごやなしなどの果物を横から見た形。

◎ (市役所) : 2枚の字葉の形。

卍 (消防署) : 繻をかり取ったあとの切り株の形。

|| (由) : 水を開いたときの形。

田 (図書館) : 音、火事のときに火の広がりを防ぐために使ったさすまたの形。

地図記号

☆手がかり

- ① 駅から南に進みます。
- ② 警察署のある交差点を東へ曲がり、家の多い所を100m進みます。
- ③ 病院のある丁字路を南に曲がります。
- ④ 学校のある交差点を東に100m進んだ所に、たからもの場があります。

たからもの場(記号)	ウ
------------	---

- (2) 次の建物が下の地図にいくつあるか、地図記号を数えてみましょう。
- ① 小・中学校 (3) ② 図書館 (1) ③ 寺院(寺) (3)
- (3) ①~④の手がかりをたよりに、たからものを探しましょう。たからものは、ア~エのどこかの場所にあります。

●やってみよう

- (1) 下の年表は、日本の歴史上で政治の中心になった場所について、まとめたものです。
 年表の中のア～エは、地図上のア～エの場所に対応しています。
 下の地図や地図帳を参考にして、年表の()に、あてはまる場所の名前を書きましょう。
 また、その場所の現在の都道府県の名前も書きましょう。→p.69-70

年	できごと	場所	現在の都道府県
710	(平城京)に都を移す。	ア	奈良県
794	(平安京)に都を移す。	イ	京都府
1192	源頼朝が征夷大將軍になる。(鎌倉幕府)	ウ	神奈川県
1603	徳川家康が(江戸)に幕府を開く。	エ	東京都

- (2) 下の表は、歴史で学習したことに関する世界文化遺産をまとめたものです。
 地図帳を参考に、世界文化遺産の場所を右の地図のオ～コから選んで、
 記号を書きましょう。また、その場所の現在の都道府県の名前も書きましょう。→p.69-70..

名前	場所	現在の都道府県
平泉	オ	岩手県
首里城跡	コ	沖縄県
姫路城	キ	兵庫県
石見銀山	ケ	島根県
富岡製糸場	カ	群馬県
原爆ドーム	ク	広島県

